

# 數學IQ題

## 4月份數學IQ題得獎名單：

我們會在早會時段現場抽出一至三年級和四至六年級各5位得獎者！



## 一至三年級(五月份)



五月數學 IQ 題：<https://forms.gle/CX5d48DpedKoY9WS8>

鍾老師在紙上寫下一個兩位數，郭sir拿來看時不小心把紙上下倒轉了，結果讀出的數字較原來的減少了42。原來的數字是多少？

出題者：

郭子傑老師

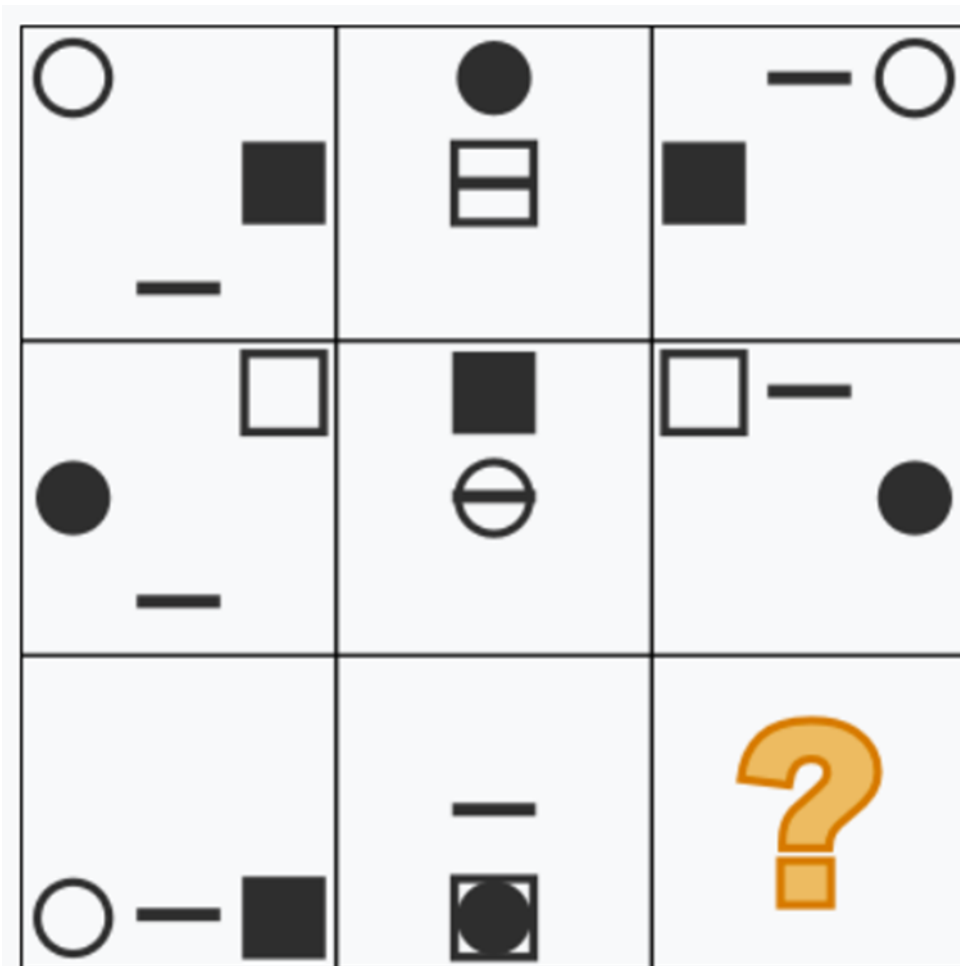


# 四至六年級(五月份)



5 月數學 IQ 題 : <https://forms.gle/voG62heppR2UVuf48>

問號所代表的格子的答案甚麼?



出題者：

陳迦志主任



本學年最後一次數學 IQ 題，  
大家加油啊!

# 一至三年級(4 月份)答案

答案是 3

小寶先喝了半杯果汁，  
媽媽又把杯子倒滿了果汁。



小寶之後又喝了半杯，  
媽媽又再把杯子倒滿了果汁。



這時桌子上共有 2 杯裝滿的果汁，





最後小寶把所有果汁喝完了。


即喝了 2 杯 + 半杯 + 半杯 = 3 杯

# 四至六年級(4 月份)答案




答案是 J

 會把所有在它的東方、南方、西方或北方的棋子吃掉；

 會把所有在它的東北方、東南方、西南方或西北方的棋子吃掉；

 會把所有在它的八個主要方向的棋子吃掉。

根據以上資料，把棋盤上的棋子不能下的格加上「x」後得出下圖的結果，所以棋子只能下在剩下沒有棋子及「x」的一格內，即是 J。

x		x	x
x	x	x	
x	x	x	J
	x	x	x

## P. 1-3 IQ 題答對的學生：

1A 何梓彤	1B 馮樂怡	1B 呂澄欣	1B 吳政軒	1B 宋家欣
1C 郭耀曦	1C 郭紫晴	1C 楊悅希	1D 傅雅瑩	1D 黃梓琪
1D 黃睿喬	2B 葉子軒	2B 易敬洋	2C 邱暉洛	2C 叶浩陽
2D 翟晉森	3A 周晉笙	3A 楊雅晴	3B 黃傲嵐	3D 陸妍霏
3D 宋家樂	3D 鍾美珊	4A 羅希瑤	4B 周紫喬	4C 吳芷穎
4D 劉千恩	5A 翟涓雯	5A 張浩天	5A 周思宇	5A 馮雋溢
5A 馮力衡	5A 何梓柔	5A 盧雅颺	5A 伍亮衡	5A 譚羽晴
5A 曾俊耀	5A 曾紫柔	5E 關琛朗	6A 羅逸僖	6B 李瑋晴

## P. 4-6 IQ 題答對的學生：

1A 何梓彤	1A 梁桓瑋	1B 馮樂怡	1C 郭耀曦	1C 楊悅希
1D 黃睿喬	2B 葉子軒	2D 翟晉森	3A 周晉笙	3A 姚卓梵
4A 陳婉晴	4A 鄭嘉謙	4A 羅希瑤	4A 曾可晴	4B 陳曉姿
4B 鄭凱文	4B 鄭婉彤	4B 張晞怡	4B 周紫喬	4B 方穎彤
4B 林姿廷	4B 李俊鋒	4B 梁峻瑋	4B 羅靖婷	4B 馬天洛
4B 伍昭城	4B 吳昀祐	4B 曾芷澄	4B 白駿賢	4B 黃天藍
4B 黃子騫	4B 顏語澄	4C 范芷琳	4C 李安真	4C 吳芷穎
4D 梁天佑	4D 羅文駿	4D 潘諾霖	5A 翟涓雯	5A 陳恩樂
5A 張浩天	5A 趙梓皓	5A 周思宇	5A 朱樂謙	5A 馮雋溢


5A 馮力衡	5A 何梓柔	5A 郭子銘	5A 林子軒	5A 盧雅颺
5A 譚羽晴	5A 曾俊耀	5A 曾紫柔	5A 韋子俊	5A 王鏞喬
5A 黃絳欣	5A 黃匡勤	5A 王建城	5A 黃以蕎	5A 嚴浩洋
5B 李晉逸	5C 吳日熙	5D 陳逸而	5D 程祺	5D 何啓樂
5D 林芊穎	5E 鍾浩揚	5E 何瑋臻	5E 關琛朗	5E 李安婷
5E 蕭梓鋒	5E 曾子政	5E 周修燦	6A 蔡泳君	6A 朱皓謙
6A 羅逸僖	6A 李卓迪	6A 盧俊希	6B 朱沚晴	6B 李瑋晴
6B 連冠驊	6C 林映呈	6C 楊泳鍵	6D 沈軒妍	

# 數學週估算王答案

1. 觀察圖片，估量李老師家中的衣櫃約長多少隻老師的手掌？答案：11 隻



2. 觀察圖片，估量李老師的筆記簿型電腦約長多少厘米？答案：34 厘米  
(每隻拇指約闊 2 厘米)



3. 觀察圖片，估量郭老師有糖果多少粒？答案：70 粒



4. 觀察圖片，估量林老師暖水壺的容量是多少毫升？一瓶益多力的容量是 100 毫升。答案：350 毫升





5. 觀察圖片，估量朱老師有米多少克？答案：700 克



6. 觀察圖片，估量鍾老師家中茶几的面積約多少平方厘米？手提電話的面積是 128 平方厘米。答案：3200 平方厘米



7. 觀察圖片，估量陳老師家中微波爐的體積約多少立方厘米？

一盒飲品的體積是 250 立方厘米。答案：42760 立方厘米



你們估中了嗎？

