

# 數學IQ題

數學IQ題宣傳片



<https://drive.google.com/file/d/1fpcwnzdy2fJZxtlbRj6KeGt-s9xgiMNi/view?usp=sharing>














2324 年度數學 IQ 題正式登場!  
大家準備好接受挑戰嗎?

## 一至三年級(九月份)

9 月數學 IQ 題 :

<https://forms.gle/Lmm3gDpgaSLvzGeG7>



	+		+		= 30
	+		+		= 26
	-				= 22
	+		-		= ?

出題者 :

關子晴老師



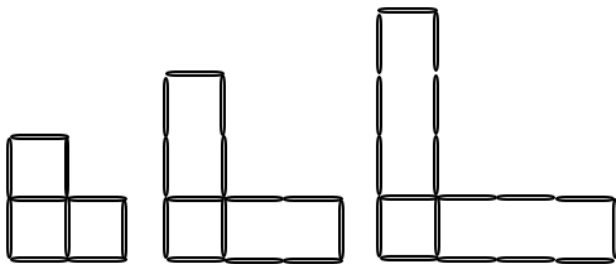
# 四至六年級(九月份)

9月數學IQ題：

<https://forms.gle/8Dm47Q438dYkeuUP8>



俊軒用竹簽砌出以下圖案。




圖一

圖二

圖三

.....



圖六

俊軒需用多少枝竹簽來砌出圖六？




出題者：

唐倩茵老師

# 趣說數學

## 泰姬瑪哈陵中的數學

6A 蘇漢琛



泰姬陵由前庭園、正門、蒙兀兒花園、陵墓主殿以及兩座清真寺所組成。它應用了不少數學：它每座塔均向外傾斜 12 度、主體建築呈八角形、中央是半球形的圓頂等。不論在外圍建築，還是內部裝飾中，整個陵墓都應用了「對稱」的原理，令建築物充滿美感。

參考資料：

<https://zh.wikipedia.org/zh-hk/%E6%B3%>

獲得教育局舉辦  
「中小學數學應用創意  
信息圖設計比賽」**銅獎**！